

Ámbito Social. Módulo Dos. Bloque 3

Soluciones Tareas y exámenes

ÍNDICE

1. Soluciones Autoevaluaciones
 - 1.1. Soluciones Soluciones Autoevaluación del Tema 7
 - 1.2. Soluciones Soluciones Autoevaluación del Tema 8

1. Soluciones Autoevaluaciones

1.1. Soluciones Autoevaluación del Tema 7

1. ¿Cuál era el nombre primitivo con el que se conocía a Grecia?

- a) Heliosponto b) Helios c) **Hélade**

2. A la Edad del Hierro se la conoce como época:

- a) Apogeo b) **Oscura** c) Divina

3. ¿Con qué nombre se conoce a las ciudades-estados, con gobiernos independientes?

- a) Peloponeso b) Hélade c) **Polis**

4. ¿Quién era considerada como la diosa de Atenas?

- a) **Atenea** b) Victoria de Samotracia c) Koré

5. En la escultura griega, el ser humano era representado de una forma:

- a) Futurista b) Ciclópeda c) **Idealista**

6. En el gobierno de Roma se sucedieron tres regímenes políticos la monarquía, el imperio y...

- a) **República** b) Despotismo c) Totalitarismo

7. Durante la República en Roma, el consejo de ancianos, formado por 300 miembros recibía el nombre de:

- a) Parlamento b) Cortes c) Senado

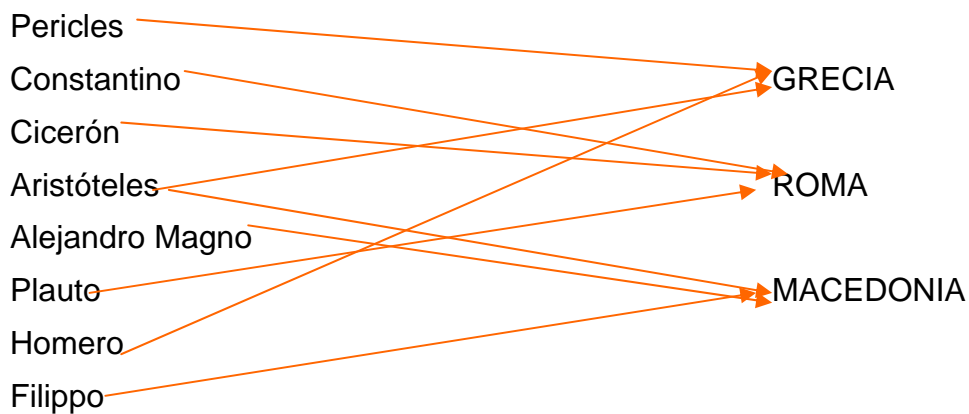
8. La persona que ostenta el poder político y religioso en Roma es el:

- a) Presidente b) Emperador c) Rey

9. ¿Dónde situó su capital el Imperio Romano de Oriente?

- a) Roma b) Constantinopla c) Atenas

10. Señala con flechas el lugar de pertenencia de estos personajes:



1.2. Soluciones Autoevaluación del Tema 8

1. Señala cómo es la distribución espacial de la población.

- a) Regular. b) Positivo. c) Irregular.

2. ¿Cómo denominamos las zonas de nuestro planeta donde no hay asentamientos permanentes?

- a) Anecúneme. b) Ecúmene. c) Inecúneme.

3. Indica el país que tiene una mayor densidad de población.

- a) España. b) La India. c) Portugal.

4. ¿Cuál es el continente más poblado del mundo?

- a) Oceanía. b) Asia. c) Europa.

5. La salida de personas desde su lugar de origen a otro lugar se denomina:

- a) Emigración. b) Inmigración. c) Integración.

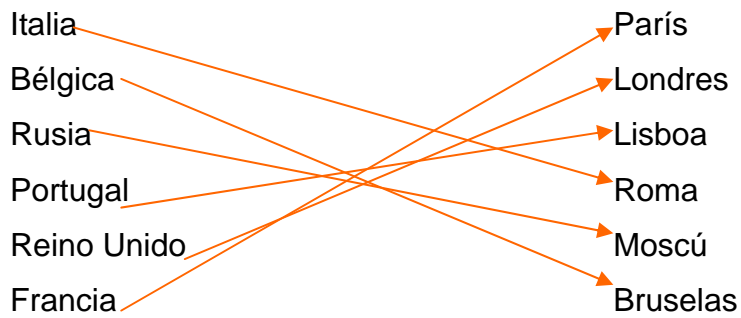
6. ¿Con qué nombre denominamos la pirámide demográfica española de principios del siglo XX?

- a) Urna. b) Campana. c) Triangular.

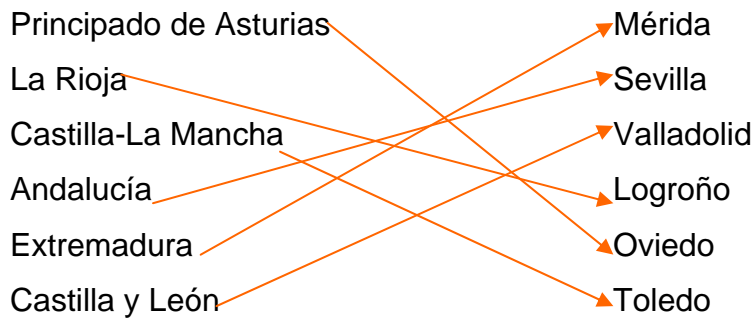
7. La diferencia entre inmigraciones menos emigraciones se denomina:

- a) Saldo migratorio. b) Pirámide en urna. c) Relación piramidal.

8. Une con flechas, cada país europeo con su capital.



9. Une con flechas, la comunidad autónoma con su capital correspondiente.



10. Castilla-La Mancha es una región:

a) Muy poblada.

b) Poblada.

c) Poco poblada.